



5 පහේ පන්තිය

නිවැරදි පිළිතුර හෝ රා යටින් ඉරක් අඳින්න.

01. පොදු දේපල ආරක්ෂා කළ යුත්තේ ඇයි?

1. එය පැරණි කාලයේ සිට පැවත එන සිරිතක් නිසා
2. එය අපේ රාජකාරියක් නිසා
3. පොදු දේපල යනු අප සැමට ම අයත් දේ නිසා

02. යහපත් දරුවකු ලෙස අප සියලු දෙනා තුළ ම තිබිය යුතු ගුණාංගයක් වන්නේ මින් කුමක් ද?

1. උඩගු බව
2. ආත්ම අභිමානය
3. හිතමානය

03. ශ්‍රී ලංකාව සෞභාග්‍යමත් රටක් බව කියවෙන්නේ ජාතික ගීයට අයත් පහත සඳහන් පද අතරින් කුමන පදයෙන් ද?

1. සුන්දර සිරි බරිනි අති සෝබමාන ලංකා
2. ධාන්‍ය ධනය නෙක මල් පලතුරු පිරි ජය භූමිය ලංකා
3. අප හට සැප සිරි සෙන සදනා ජීවනයේ මාතා

04. අතු කැබලි, දඬු සිටවීම මගින් පැළ ලබා ගත නොහැකි ශාකයක් වන්නේ මින් කුමක් ද?

1. හිවිති
2. බතල
3. මිරිස්

05. සාමාන්‍යයෙන් ජාතික කොඩිය ඔසවන අවස්ථාවක් නොවන්නේ මින් කුමක් ද?
1. ජාතික චිර දිනයේ දී
 2. ජනාධිපතිතුමා දිවුරුම් දෙන උත්සවයේ දී
 3. පොසොන් උත්සවයේ දී
06. කොළපොත අපට ලැබෙන්නේ කුමන ශාකයෙන් ද?
1. තල් ගසෙන්
 2. පොල් ගසෙන්
 3. පුවක් ගසෙන්
07. ගොවියාගේ මිතුරකු ලෙස සැලකිය හැකි කෘතී සතා වන්නේ මින් කවරෙක් ද?
1. ගෙමැස්සා
 2. ඉල් මැස්සා
 3. මී මැස්සා
08. ඉදිරියේ දී වෙනත් සතෙක් බවට පත් වීමට ඉඩ ඇති සතා කවු ද?
1. ලේනා
 2. දළඹුවා
 3. මකුළුවා
09. අතු ගෑමෙන් පසු ඉදලේ ඉරටු උඩ අතට තැබිය යුත්තේ ඇයි?
1. ඉරටුවලට බර පැමිණ වීවා කැඩී යාම වැළැක්වීමට
 2. ඉදලේ ඉරටු හොඳින් වේළීමට
 3. ඉරටුවලට හොඳින් වාතාශ්‍රය ලැබීමට
10. මුදවපු කිරි, යෝගට්, කිරි වැනි දේ කල් ඉකුත් වූ විට සිදුවිය හැකි දෙයක් නොවන්නේ මින් කුමක් ද?
1. කහ පාටට හුරු පාටක් ගැනීම
 2. ගඳ ගැසීම
 3. අයිස් බවට පත්වීම
11. ධීවර කර්මාන්තයේ දී භාවිත කරන උපකරණයක් වන්නේ මින් කුමක් ද?
1. අතංගුව
 2. අලවංගුව
 3. කෝදුව
12. සෙංගමාලය රෝගය පැතිර යන්නේ මින් කුමක් හිසා ද?
1. අපිරිසිදු ජලය
 2. අපිරිසිදු වාතය
 3. මැස්සන් හිසා
13. පොළොවේ ගැඹුරින් ඇති භූගත ජලය ප්‍රයෝජනයට ගන්නා අවස්ථාවක් වන්නේ මින් කුමක් ද?
1. ගංගා මගින්
 2. ඇළ දොළ මගින්
 3. නළ පිං මගින්
14. හුමාලයෙන් ක්‍රියාකරන ක්‍රීඩා භාණ්ඩයක් වන්නේ මින් කුමක් ද?
1. රබර් ඇට කරත්තය
 2. හුමාල බෝට්ටුව
 3. බයිසිකලය

24. දේදුන්නක ඇති වර්ණ ගණන

1. 6යි.

2. 7යි.

3. 8යි.

25. 2020 වර්ෂයේ දී අප සමරනු ලැබුවේ,


1. 71 වන නිදහස් දිනය

2. 72 වන නිදහස් දිනය


3. 73 වන නිදහස් දිනය

26. පුර පසළොස්වක පොතොය දිනට දැකිය හැකි සඳෙහි රූපය වන්නේ,


1.



2.



3.



27. ශ්‍රී ලංකාවේ තිබෙන පළාත් ගණන,

1. 8කි.

2. 9කි.

3. 10කි.

28. ලෝහ ද්‍රව්‍ය එකට ගැටීමෙන් ශබ්දය ලබා ගන්නා සංගීත භාණ්ඩයක් වන්නේ,

1. උඩැක්කිය

2. තම්මැටිම

3. තාලම්පට

29. පරිසර දූෂණය වළක්වා ගෙන ගමනාගමනයෙහි යෙදීමට වඩාත් ම සුදුසු වාහනය වන්නේ,

1. යතුරුපැදිය

2. මෝටර් රථය

3. පාපැදිය

30. ඇට කැබලි දෙකක් සහිත ඇඟිල්ල වනුයේ,

1. මැදැඟිල්ල

2. සුළැඟිල්ල

3. මහපටැඟිල්ල